

# 1 JOUR 1 PROBLÈME CM1 – CM2

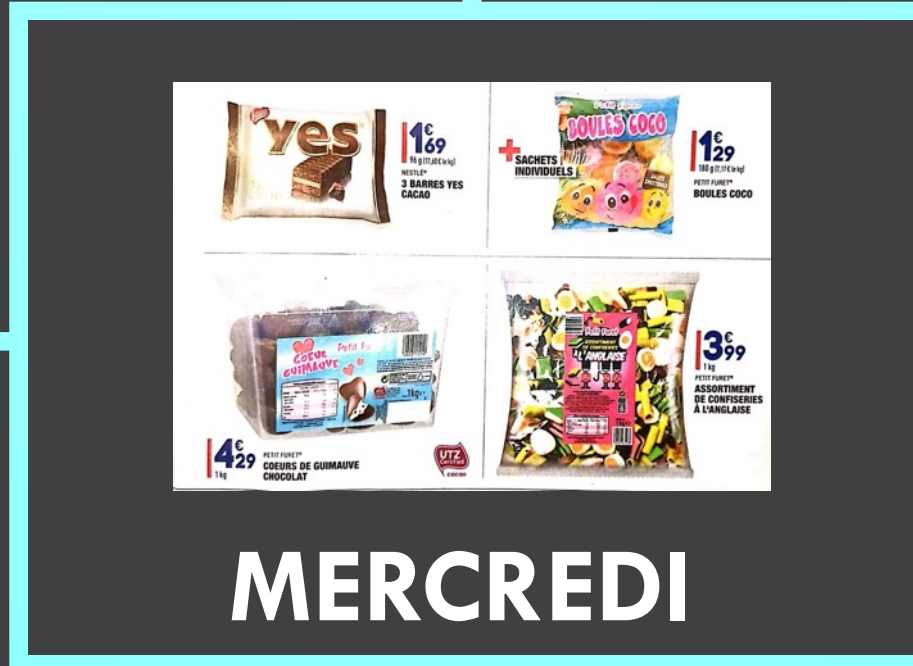
SEMAINE DES MATHS 2021

MISSION MATHÉMATIQUES DSDEN DU NORD

# LUNDI



# MARDI



# JEUDI



## ACTIVITÉS BONUS

BONUS 1

BONUS 2


BONUS 3




# VENDREDI




LUNDI




MARDI




MERCREDI




JEUDI



VENDREDI





LUNDI

LUNDI

MARDI

JEUDI

VENDREDI

MERCREDI

ACTIVITE 1000000  
1000000  
1000000  
1000000

1000000  
1000000  
1000000  
1000000



MARDI





**1€169**  
96 g (17,60 € le kg)  
NESTLÉ®  
3 BARRES YES  
CACAO



**+ SACHETS INDIVIDUELS**

**1€129**  
180 g (7,17 € le kg)  
PETIT FURET®  
BOULES COCO



**4€29**  
1 kg  
PETIT FURET®  
COEURS DE GUIMAUVE  
CHOCOLAT



**3€99**  
1 kg  
PETIT FURET®  
ASSORTIMENT  
DE CONFISERIES  
À L'ANGLAISE

Maman me demande d'acheter des sucreries pour la fête de mon anniversaire. Je dois acheter au moins un sachet de chaque sucrerie. Elle me donne un billet de 20 euros.

Quel est le nombre de paquets pour chaque sucrerie je vais pouvoir acheter ?

*Attention il y a plusieurs solutions.*

**MERCREDI**

LUNDI

MARDI

MERCREDI

JEUDI

VENDREDI



Quelle distance sépare la ville de Marquillies et la ville de Santes ?



LUNDI

MARDI

JEUDI

MERCREDI

VENDREDI



VENDREDI

LUNDI

MARDI

JEUDI

MERCREDI

VENDREDI

ACTIVITE BONUS

BONUS 1

BONUS 2

BONUS 3



BONUS 1



LUNDI



JEUDI



MARDI



VENDREDI



MERCREDI




ACTIVITE BONUS

BONUS 1

BONUS 2

BONUS 3



BONUS 2


LUNDI

MARDI

JEUDI

MERCREDI

VENDREDI



BONUS 3