


## **Composition**

### **Le train n°1 :**

Dans un train, il y a 3 personnes dans le 1<sup>er</sup> wagon, 5 personnes dans le deuxième wagon et 2 personnes dans le troisième wagon.


**Combien y-a-t-il de personnes au total dans ce train ?**



### **Le train n°1 :**

Dans un train, il y a 3 personnes dans le 1<sup>er</sup> wagon, 5 personnes dans le deuxième wagon et 2 personnes dans le troisième wagon.


**Combien y-a-t-il de personnes au total dans ce train ?**



### **Le train n°1 :**

Dans un train, il y a 3 personnes dans le 1<sup>er</sup> wagon, 5 personnes dans le deuxième wagon et 2 personnes dans le troisième wagon.

**Combien y-a-t-il de personnes au total dans ce train ?**



### **Le train n°1 :**

Dans un train, il y a 3 personnes dans le 1<sup>er</sup> wagon, 5 personnes dans le deuxième wagon et 2 personnes dans le troisième wagon.


**Combien y-a-t-il de personnes au total dans ce train ?**



### **Le train n°1 :**

Dans un train, il y a 3 personnes dans le 1<sup>er</sup> wagon, 5 personnes dans le deuxième wagon et 2 personnes dans le troisième wagon.


**Combien y-a-t-il de personnes au total dans ce train ?**



### **Le train n°1 :**

Dans un train, il y a 3 personnes dans le 1<sup>er</sup> wagon, 5 personnes dans le deuxième wagon et 2 personnes dans le troisième wagon.

**Combien y-a-t-il de personnes au total dans ce train ?**



### **Le train n°1 :**

Dans un train, il y a 3 personnes dans le 1<sup>er</sup> wagon, 5 personnes dans le deuxième wagon et 2 personnes dans le troisième wagon.



**Combien y-a-t-il de personnes au total dans ce train ?**

**Composition**

**Les billes n°1 :**

Dans mes poches, j'ai 13 billes. J'en ai 5 dans ma poche gauche.

**Combien ai-je de billes dans ma poche droite ?**



**Les billes n°1 :**

Dans mes poches, j'ai 13 billes. J'en ai 5 dans ma poche gauche.

**Combien ai-je de billes dans ma poche droite ?**



**Les billes n°1 :**

Dans mes poches, j'ai 13 billes. J'en ai 5 dans ma poche gauche.

**Combien ai-je de billes dans ma poche droite ?**



**Les billes n°1 :**

Dans mes poches, j'ai 13 billes. J'en ai 5 dans ma poche gauche.

**Combien ai-je de billes dans ma poche droite ?**



**Les billes n°1 :**

Dans mes poches, j'ai 13 billes. J'en ai 5 dans ma poche gauche.

**Combien ai-je de billes dans ma poche droite ?**



**Les billes n°1 :**

Dans mes poches, j'ai 13 billes. J'en ai 5 dans ma poche gauche.

**Combien ai-je de billes dans ma poche droite ?**



**Les billes n°1 :**

Dans mes poches, j'ai 13 billes. J'en ai 5 dans ma poche gauche.

**Combien ai-je de billes dans ma poche droite ?**



**Les billes n°1 :**

Dans mes poches, j'ai 13 billes. J'en ai 5 dans ma poche gauche.

**Combien ai-je de billes dans ma poche droite ?**



## Transformation

### Le jeu de l'oie n°1 :

Léa joue au jeu de l'Oie. Elle est sur la case numéro 10 et elle doit reculer de 7cases.  
Sur quelle case va-t-elle poser son pion ?



### Le jeu de l'oie n°1 :

Léa joue au jeu de l'Oie. Elle est sur la case numéro 10 et elle doit reculer de 7cases.  
Sur quelle case va-t-elle poser son pion ?



### Le jeu de l'oie n°1 :

Léa joue au jeu de l'Oie. Elle est sur la case numéro 10 et elle doit reculer de 7cases.  
Sur quelle case va-t-elle poser son pion ?



### Le jeu de l'oie n°1 :

Léa joue au jeu de l'Oie. Elle est sur la case numéro 10 et elle doit reculer de 7cases.  
Sur quelle case va-t-elle poser son pion ?



### Le jeu de l'oie n°1 :

Léa joue au jeu de l'Oie. Elle est sur la case numéro 10 et elle doit reculer de 7cases.  
Sur quelle case va-t-elle poser son pion ?



### Le jeu de l'oie n°1 :

Léa joue au jeu de l'Oie. Elle est sur la case numéro 10 et elle doit reculer de 7cases.  
Sur quelle case va-t-elle poser son pion ?



### Le jeu de l'oie n°1 :

Léa joue au jeu de l'Oie. Elle est sur la case numéro 10 et elle doit reculer de 7cases.  
Sur quelle case va-t-elle poser son pion ?



### Le jeu de l'oie n°1 :

Léa joue au jeu de l'Oie. Elle est sur la case numéro 10 et elle doit reculer de 7cases.  
Sur quelle case va-t-elle poser son pion ?



## Transformation

### Les oiseaux n°1 :

Il y avait 8 oiseaux dans l'arbre. Il n'en reste plus que 3.  
**Combien d'oiseaux se sont envolés ?**



### Les oiseaux n°1 :

Il y avait 8 oiseaux dans l'arbre. Il n'en reste plus que 3.  
**Combien d'oiseaux se sont envolés ?**



### Les oiseaux n°1 :

Il y avait 8 oiseaux dans l'arbre. Il n'en reste plus que 3.  
**Combien d'oiseaux se sont envolés ?**



### Les oiseaux n°1 :

Il y avait 8 oiseaux dans l'arbre. Il n'en reste plus que 3.  
**Combien d'oiseaux se sont envolés ?**



### Les oiseaux n°1 :

Il y avait 8 oiseaux dans l'arbre. Il n'en reste plus que 3.  
**Combien d'oiseaux se sont envolés ?**



### Les oiseaux n°1 :

Il y avait 8 oiseaux dans l'arbre. Il n'en reste plus que 3.  
**Combien d'oiseaux se sont envolés ?**



### Les oiseaux n°1 :

Il y avait 8 oiseaux dans l'arbre. Il n'en reste plus que 3.  
**Combien d'oiseaux se sont envolés ?**



### Les oiseaux n°1 :

Il y avait 8 oiseaux dans l'arbre. Il n'en reste plus que 3.  
**Combien d'oiseaux se sont envolés ?**



## composition

### Les bonbons n°1 :

Dans la boîte, il y avait des bonbons. J'en ai mangé 3 et il en reste encore 4.  
Combien y avait-il de bonbons dans la boîte avant que j'en mange ?



### Les bonbons n°1 :

Dans la boîte, il y avait des bonbons. J'en ai mangé 3 et il en reste encore 4.  
Combien y avait-il de bonbons dans la boîte avant que j'en mange ?



### Les bonbons n°1 :

Dans la boîte, il y avait des bonbons. J'en ai mangé 3 et il en reste encore 4.  
Combien y avait-il de bonbons dans la boîte avant que j'en mange ?



### Les bonbons n°1 :

Dans la boîte, il y avait des bonbons. J'en ai mangés 3 et il en reste encore 4.  
Combien y avait-il de bonbons dans la boîte avant que j'en mange ?



### Les bonbons n°1 :

Dans la boîte, il y avait des bonbons. J'en ai mangé 3 et il en reste encore 4.  
Combien y avait-il de bonbons dans la boîte avant que j'en mange ?



### Les bonbons n°1 :

Dans la boîte, il y avait des bonbons. J'en ai mangé 3 et il en reste encore 4.  
Combien y avait-il de bonbons dans la boîte avant que j'en mange ?



### Les bonbons n°1 :

Dans la boîte, il y avait des bonbons. J'en ai mangé 3 et il en reste encore 4.  
Combien y avait-il de bonbons dans la boîte avant que j'en mange ?



### Les bonbons n°1 :

Dans la boîte, il y avait des bonbons. J'en ai mangé 3 et il en reste encore 4.  
Combien y avait-il de bonbons dans la boîte avant que j'en mange ?




## Composition

### Le train n°2 :

Dans un train, il y a 4 personnes dans le 1<sup>er</sup> wagon, 6 personnes dans le deuxième wagon et 3 personnes dans le troisième wagon.

**Combien y-a-t-il de personnes au total dans ce train ?**



## Composition

### Les billes n°2 :

Dans mes poches, j'ai 14 billes. J'en ai 9 dans ma poche gauche.

**Combien ai-je de billes dans ma poche droite ?**



## Transformation

### Le jeu de l'oie n°2 :

Léa joue au jeu de l'Oie. Elle est sur la case numéro 14 et elle doit reculer de 6 cases.

**Sur quelle case va-t-elle poser son pion ?**



## Transformation

### Les oiseaux n°2 :

Il y avait 7 oiseaux dans l'arbre. Il n'en reste plus que 2.

**Combien d'oiseaux se sont envolés ?**



## Transformation

### Les bonbons n°2 :

Dans la boîte, il y avait des bonbons. J'en ai mangé 3 et il en reste encore 2.

**Combien y avait-il de bonbons dans la boîte avant que j'en mange ?**




## Composition

### Le train n°3 :

Dans un train, il y a 7 personnes dans le 1<sup>er</sup> wagon, 6 personnes dans le deuxième wagon et 5 personnes dans le troisième wagon.

**Combien y-a-t-il de personnes au total dans ce train ?**



## Composition

### Les billes n°3 :

Dans mes poches, j'ai 18 billes. J'en ai 7 dans ma poche gauche.

**Combien ai-je de billes dans ma poche droite ?**



## Transformation

### Le jeu de l'oie n°3 :

Léa joue au jeu de l'Oie. Elle est sur la case numéro 17 et elle doit reculer de 8 cases.

**Sur quelle case va-t-elle poser son pion ?**



## Transformation

### Les oiseaux n°3 :

Il y avait 9 oiseaux dans l'arbre. Il n'en reste plus que 5.

**Combien d'oiseaux se sont envolés ?**



## Transformation

### Les bonbons n°3 :

Dans la boîte, il y avait des bonbons. J'en ai mangé 2 et il en reste encore 5.

**Combien y avait-il de bonbons dans la boîte avant que j'en mange ?**

